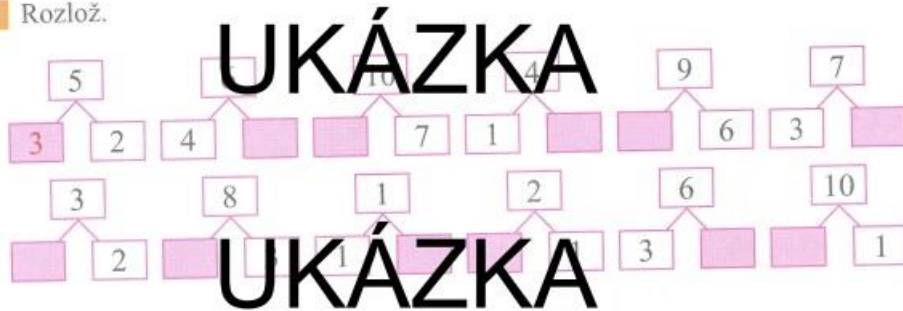


10 Doplni znaménka +, nebo -.

3 + 4 = 7	2 + 3 = 5	6 + 6 = 0	7 + 5 = 2	8 + 7 = 1
6 + 2 = 8	7 + 2 = 5	2 + 4 = 6	9 + 4 = 5	3 + 5 = 8
3 + 1 = 4	9 + 1 = 8	3 + 3 = 6	6 + 3 = 9	8 + 5 = 3
1 + 8 = 9	3 + 8 = 4	9 + 3 = 6	9 + 3 = 6	7 + 2 = 9
4 + 2 = 6	6 + 3 = 3	8 + 1 = 7	2 + 2 = 5	2 + 2 = 4
5 + 4 = 9	1 + 1 = 2	1 + 3 = 4	4 + 4 = 8	3 + 1 = 2

UKÁZKA

11 Rozlož.

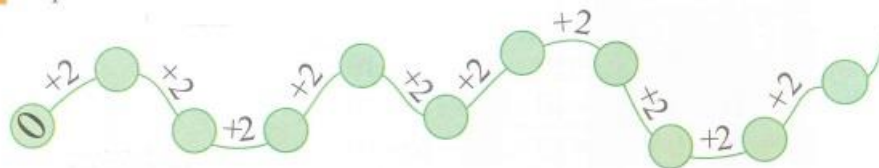


12 Vypočítej.

10 - 5 - 2 = 3	8 - 4 + 2 =	10 - 9 + 5 =	4 + 2 + 3 =
9 - 4 + 3 =	7 - 5 + 6 =	10 - 7 + 2 =	5 + 4 + 0 =
10 - 8 + 6 =	10 - 6 + 7 =	10 - 5 =	2 + 3 + 3 =
10 - 2 + 1 =	6 - 6 + 4 =	9 - 3 - 6 =	8 - 4 - 4 =
10 - 9 + 4 =	9 - 5 - 2 =	9 - 7 - 1 =	8 - 1 - 3 =
10 - 1 + 0 =	6 + 3 + 1 =	9 - 8 + 9 =	4 + 4 + 2 =
10 - 3 + 1 =	7 + 1 - 5 =	9 + 0 - 6 =	3 + 4 + 3 =
10 - 7 + 4 =	7 + 3 - 4 =	9 + 1 - 5 =	5 + 2 + 0 =

UKÁZKA

13 Doplni.



96 Vypočítej. $37+2$

$37+2=39$

$41+2=$

$53+2=$

$74+2=$

$26+2=$

$34+2=$

$65+2=$

$83+2=$

$17+2=$

$91+2=$

$38+2=$

$42+7=$

$31+8=$

$68+1=$

$43+3=$

$22+5=$

$35+4=$

$61+7=$

$83+4=$

$12+7=$

$94+5=$

$71+8=$

$33+6=$

$44+3=$

UKÁZKA

97 Vypočítej. $39-2$

$39-2=37$

$93-2=$

$25-2=$

$46-2=$

$68-2=$

$84-2=$

$13-2=$

$57-2=$

$76-2=$

$35-2=$

$48-5=$

$89-5=$

$54-4=$

$28-7=$

$49-8=$

$68-3=$

$54-3=$

$89-6=$

$19-3=$

$78-6=$

$56-4=$

$44-3=$

$69-7=$

$27-5=$

UKÁZKA

UKÁZKA

98 Vypočítej.

+3	54	82	16	61	35	44	93	25	72	36
	57									

UKÁZKA

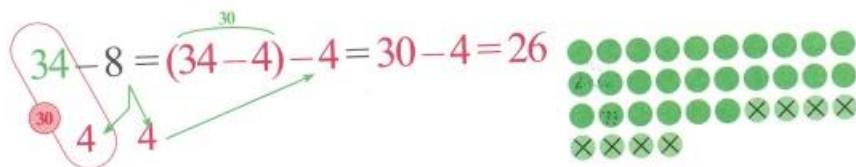
+5	71	32	63	14	72	43	81	93	51	24

-3	29	58			37			46		75
			60	10		20	80		90	

-4	45	16		37	88		29			95
			50			60		70	80	

106 Vypočítej. $34 - 8$

$34 - 8 = (34 - 4) - 4 = 30 - 4 = 26$



$26 - 8 = 18$ $15 - 8 = _$ $35 - 6 = _$ $64 - 5 = _$



$33 - 5 = _$ $12 - 3 = _$ $42 - 6 = _$ $53 - 4 = _$



$56 - 7 = _$ $18 - 9 = _$ $67 - 9 = _$ $61 - 5 = _$



$24 - 6 = _$ $32 - 2 = _$ $35 - 5 = _$ $95 - 8 = _$



$45 - 7 = _$ $16 - 7 = _$ $58 - 9 = _$ $73 - 6 = _$



$94 - 5 = _$ $13 - 6 = _$ $21 - 3 = _$ $51 - 5 = _$



133 V družině je deset dětí. Ke svačině každé dítě dostane dvě jablíčka.



Kolik jablíček je potřeba připravit?

Počítej:

2, 4, 6, **UKÁZKA**
 Připravíme jablíček.

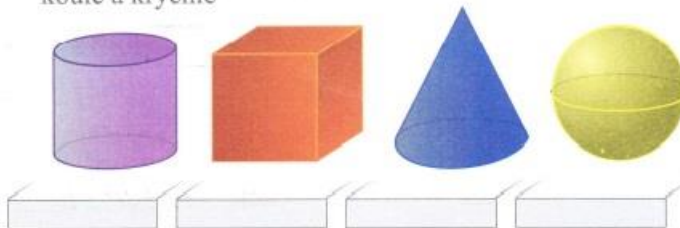
134 Doplně násobky.



135 Vypočítej.

a	2	5	9	1	6	8	10	3	7	4
$a \cdot 2$	4									
b	6	12	8	20	14	2	18	4	16	10
$b : 2$	3									

136 Napiš správný název ke každému tělesu: kužel, válec, koule a krychle



137 Zapiš číslo dvakrát větší, než jsou daná čísla.

$\cdot 2$

2	4
5	
1	
8	
3	
9	
7	
4	
10	
6	
20	
30	
40	
50	

138 Zapiš číslo třikrát větší, než jsou daná čísla.

$\cdot 3$

3	9
2	
5	
7	
1	
8	
9	
4	
6	
10	