






Doplň číselnou řadu.

1			4	
	2			
		3		
1				
				5

				1
5			2	
	4			
			3	
	4			1

Spoj čísla, jak jdou za sebou.

1	UKÁZKA	4
5		1
2	4 5	3
4	1 5	2
5	2 4	1 4 3

5  +  +  +  +  = 5

 +  +  +  +  = 5

UKÁZKA

 +  +  +  +  = 5

 +  +  +  +  = 5

UKÁZKA

Piš.

5

5

5

UKÁZKA


12345

12345

54321

54321

Sčítej.

							
1	+	4	=	5		=	



							

Doplň.



			
---	---	---	---

$1 + 4 = 5$

$3 + \underline{\quad} = 5$

	
---	---

$2 + \underline{\quad} = 5$

	
---	--

$4 + \underline{\quad} = 5$

Rozlož.



3  
2 **UKÁZKA**

5  
3 —



4  
2 **UKÁZKA**

5  
1 —



5  
2 **UKÁZKA**

4  
1 —

Vypočítej.

$1 + 4 = \underline{\quad}$

$3 + 1 = \underline{\quad}$

$2 + 1 = \underline{\quad}$

$2 + 3 = \underline{\quad}$

$4 + 1 = \underline{\quad}$

$1 + 1 = \underline{\quad}$

$3 + 2 = \underline{\quad}$

$1 + 2 = \underline{\quad}$

$2 + 2 = \underline{\quad}$

$2 + 3 = \underline{\quad}$

$2 + 2 = \underline{\quad}$

$4 + 1 = \underline{\quad}$

$2 + 3 = \underline{\quad}$

$3 + 1 = \underline{\quad}$

$1 + 3 = \underline{\quad}$

Piš.

66

6 UKÁZKA

66

123456 UKÁZKA

Doplň číselnou řadu.

0		3	5						
6		4	UKÁZKA						
		1		4					
				2					
				5				0	
						2	4		

Vypočítej.

$4 + 2 = \underline{\quad}$	$1 + 2 = \underline{\quad}$	$3 - 2 = \underline{\quad}$	$6 - 1 = \underline{\quad}$
$3 + 0 = \underline{\quad}$	$2 + 2 = \underline{\quad}$	$4 - 3 = \underline{\quad}$	$5 - 4 = \underline{\quad}$
$5 + 1 = \underline{\quad}$	$0 + 3 = \underline{\quad}$	$5 - 0 = \underline{\quad}$	$4 - 2 = \underline{\quad}$
$2 + 3 = \underline{\quad}$	$4 - 1 = \underline{\quad}$	$5 - 3 = \underline{\quad}$	$2 - 2 = \underline{\quad}$

UKÁZKA

Sčítej.



UKÁZKA



UKÁZKA

