

Seřaď čísla podle velikosti.

2    8    12    17    6    11    9    18

---

10    4    13    8    3    16    11    7

14    4    8    10    1    14    18    15

**UKÁZKA**

Spoj čísla, která dávají součet 9.

**UKÁZKA**

0 — 1 — 2 — 3 — 4 — 5 — 6 — 7 — 8 — 9

Sčítej.

**UKÁZKA**

10  1     10  6     10  8     10  2     10  10

$10 + 1 = 11$

10  3     10  7     10  4     10  9     10  5

Nakresli:  $\triangle$ ,  $\circ$ ,  $\square$

12	15	16


UKÁZKA

18	14	17

UKÁZKA

20	11	13

Vypočítej.



$$10 + 5 = 15$$



$$10 + 8 =$$



$$10 + 10 =$$



$$10 + 6 =$$



$$10 + 7 =$$



$$10 + 3 =$$

Doplň (sestupně).

13	12	11		13		14		15	
	16			17		18		19	
	10			6				5	
	8			3		9		4	

Doplň číslici hned před a hned za uvedené číslo.

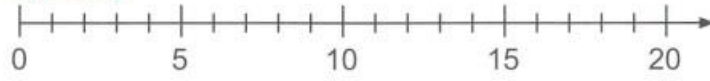
	14			9			4	
	12			14			10	
	10			15			8	
	16			17			9	
	18			19			11	
	11			10			5	

Vypočítej.

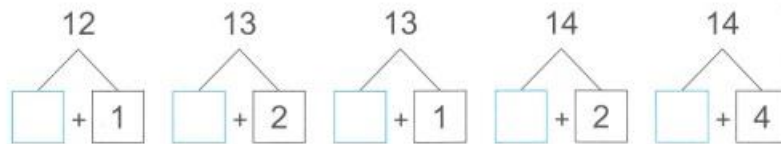
+1	11	15	17	19	12	16	13	18	14	10
	12									

-1	14	16	12	17	13	18	15	19	11	10
	13									

Vypočítej.



1 + 1 =         2 + 1 =         3 + 1 =         4 + 1 =       
11 + 1 =         12 + 1 =         13 + 1 =         14 + 1 =       
1 + 2 =         2 + 2 =         3 + 2 =         4 + 2 =       
11 + 2 =         12 + 2 =         13 + 2 =         14 + 2 =       
1 + 3 =         2 + 3 =         3 + 3 =         4 + 3 =       
11 + 3 =         12 + 3 =         13 + 3 =         14 + 3 =       
1 + 4 =         2 + 4 =         3 + 4 =         4 + 4 =       
11 + 4 =         12 + 4 =         13 + 4 =         14 + 4 =       
1 + 5 =         2 + 5 =         3 + 5 =         4 + 5 =       
11 + 5 =         12 + 5 =         13 + 5 =         14 + 5 =     



Znázorni a vypočítej.

 		$5 + 5 + 0 = 10$	$5 + 5 = 10$
  		$5 + 5 + 1 = \underline{\quad}$	$5 + 6 = 11$
  		$5 + 5 + 2 = \underline{\quad}$	$5 + 7 = \underline{\quad}$
  		$5 + 5 + 3 = \underline{\quad}$	$5 + 8 = \underline{\quad}$
  		$5 + 5 + 4 = \underline{\quad}$	$5 + 9 = \underline{\quad}$
  		$5 + 5 + 5 = \underline{\quad}$	$5 + 10 = \underline{\quad}$

# UKÁZKA

Vypočítej.

$5 + 6 = \underline{\quad}$	$5 + \underline{\quad} = 12$	$5 + 4 = \underline{\quad}$	$5 - 3 = \underline{\quad}$
$5 + 8 = \underline{\quad}$	$5 + \underline{\quad} = 11$	$5 + 2 = \underline{\quad}$	$5 - 1 = \underline{\quad}$
$5 + 10 = \underline{\quad}$	$5 + \underline{\quad} = 3$	$5 + 0 = \underline{\quad}$	$5 - 4 = \underline{\quad}$
$5 + 7 = \underline{\quad}$	$5 + \underline{\quad} = 15$	$5 + 5 = \underline{\quad}$	$5 - 0 = \underline{\quad}$
$5 + 9 = \underline{\quad}$	$5 + \underline{\quad} = 14$	$5 + 1 = \underline{\quad}$	$5 - 5 = \underline{\quad}$

# UKÁZKA




Škrtni čísla, která nemohou být v rámečku. Hledej všechna řešení.

$7 > \square$	<input type="checkbox"/> 1	<input type="checkbox"/> 2	<input type="checkbox"/> 3	<input type="checkbox"/> 4	<input type="checkbox"/> 5	<input type="checkbox"/> 6	<input checked="" type="checkbox"/> 7	<input checked="" type="checkbox"/> 8	<input checked="" type="checkbox"/> 9	<input checked="" type="checkbox"/> 10
$5 < \square$	<input type="checkbox"/> 1	<input type="checkbox"/> 2	<input type="checkbox"/> 3	<input type="checkbox"/> 4	<input type="checkbox"/> 5	<input type="checkbox"/> 6	<input type="checkbox"/> 7	<input type="checkbox"/> 8	<input type="checkbox"/> 9	<input type="checkbox"/> 10
$1 < \square < 8$	<input type="checkbox"/> 1	<input type="checkbox"/> 2	<input type="checkbox"/> 3	<input type="checkbox"/> 4	<input type="checkbox"/> 5	<input type="checkbox"/> 6	<input type="checkbox"/> 7	<input type="checkbox"/> 8	<input type="checkbox"/> 9	<input type="checkbox"/> 10
$4 < \square$	<input type="checkbox"/> 1	<input type="checkbox"/> 2	<input type="checkbox"/> 3	<input type="checkbox"/> 4	<input type="checkbox"/> 5	<input type="checkbox"/> 6	<input type="checkbox"/> 7	<input type="checkbox"/> 8	<input type="checkbox"/> 9	<input type="checkbox"/> 10
$8 > \square$	<input type="checkbox"/> 1	<input type="checkbox"/> 2	<input type="checkbox"/> 3	<input type="checkbox"/> 4	<input type="checkbox"/> 5	<input type="checkbox"/> 6	<input type="checkbox"/> 7	<input type="checkbox"/> 8	<input type="checkbox"/> 9	<input type="checkbox"/> 10

Znázorni a vypočítej.

		$4 + 6 + 0 = 10$	$4 + 6 = 10$
		$4 + 6 + 1 = \underline{\quad}$	$4 + 7 = 11$
		$4 + 6 + 2 = \underline{\quad}$	$4 + 8 = \underline{\quad}$
		$4 + 6 + 3 = \underline{\quad}$	$4 + 9 = \underline{\quad}$
		$4 + 6 + 4 = \underline{\quad}$	$4 + 10 = \underline{\quad}$

Vypočítej.

		
2	3	6
11	12	1
8	16	20
14	7	13
10	13	10
9	8	18
12	11	14
18		11

Seřad' čísla, aby se ti lépe počítalo.

$5 + 7 + 5 = 5 + 5 + 7 = 17$	$9 + 6 + 1 = \underline{\quad} + \underline{\quad} + \underline{\quad} = \underline{\quad}$
$9 + 2 + 8 = \underline{\quad} + \underline{\quad} + \underline{\quad} = \underline{\quad}$	$8 + 5 + 5 = \underline{\quad} + \underline{\quad} + \underline{\quad} = \underline{\quad}$
$3 + 5 + 7 = \underline{\quad} + \underline{\quad} + \underline{\quad} = \underline{\quad}$	$6 + 9 + 4 = \underline{\quad} + \underline{\quad} + \underline{\quad} = \underline{\quad}$
$8 + 7 + 2 = \underline{\quad} + \underline{\quad} + \underline{\quad} = \underline{\quad}$	$1 + 4 + 9 = \underline{\quad} + \underline{\quad} + \underline{\quad} = \underline{\quad}$